



INVESTICE DO ROZVOJE VZDĚLÁVÁNÍ

Tento projekt je spolufinancován Evropským sociálním fondem a státním rozpočtem České republiky.

Základní škola Třemošnice, okres Chrudim, Pardubický kraj

538 43 Třemošnice, Internátní 217; IČ: 70989176, tel: 469 661 719,

email: zskola@tremosnice.cz, www.zs-tremosnice.cz

Registrační číslo: CZ.1.07/1.4.00/21.2459

Název: Škola pro každého – kvalita a efektivnost ve využití lidských zdrojů

Výukový materiál

VY_32_INOVACE_14_ Sčítání do sta s přechodem přes desítku

Název materiálu (téma): Sčítání do sta s přechodem přes desítku
Sada: Matematika, 1. stupeň
Autor: Mgr. Eva Čermáková
Anotace: Sčítání do sta s přechodem přes desítku (práce s interaktivní tabulí)

a) rozkládej čísla:

9	4	8	7	5	6
/\	/\	/\	/\	/\	/\
4 5	2	5	3	2	5

3	6	2	9	4	7
/\	/\	/\	/\	/\	/\
1	3	1	7	3	4

b) dopočítej do následující desítky:

26 + 4 = 30	82 + . = 90
17 + . = 20	45 + . = 50
79 + . = 80	68 + . = 70
54 + . = 60	33 + . = 40
85 + . = 90	29 + . = 30

c) sčítej:

$50 + 7 = 57$

$40 + 4 =$

$70 + 6 =$

$90 + 1 =$

$20 + 9 =$

$60 + 8 =$

$30 + 2 =$

$80 + 5 =$

$40 + 3 =$

$20 + 6 =$

Při sčítání s přechodem přes desítku všechny kroky spojíme:

$65 + 8 = 65 + 5 + 3 = 73$

/\

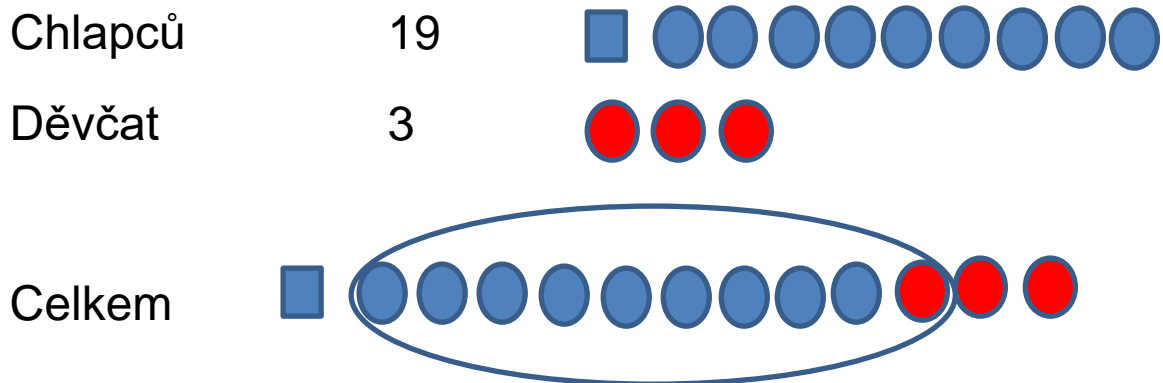
5 3

$37 + 7 = 37 + 3 + 4 = 46$

/\

3 4

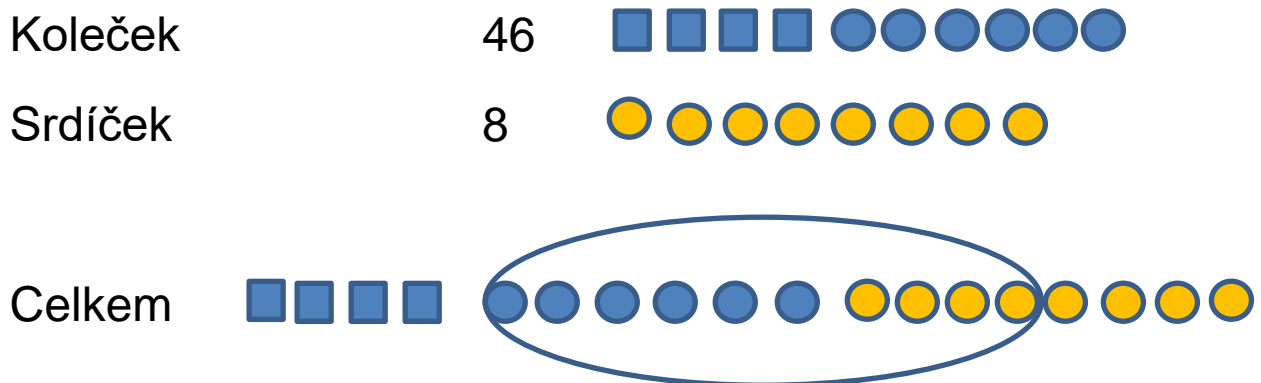
Ve třídě bylo 19 chlapců a tři děvčata. Kolik dětí bylo ve třídě dohromady?



$$19 + 3 = 22$$

Ve třídě bylo dohromady 22 dětí.

Maminka pekla vánoční cukroví. Upekla 46 koleček a 8 srdíček. Kolik kousků cukroví upekla celkem?



$$\text{Počítej: } 46 + 8 = 46 + 4 + 4 = 54$$

/\

4 4

Maminka upekla celkem 54 kousků vánočního cukroví.

Počítej:

$46 + 7 =$

$58 + 6 =$

$63 + 8 =$

$29 + 2 =$

$35 + 6 =$

$77 + 5 =$

$49 + 4 =$

$86 + 9 =$

$28 + 3 =$

$35 + 7 =$

$77 + 6 =$

$49 + 2 =$

$82 + 9 =$

$68 + 4 =$

$24 + 7 =$

$26 + 5 =$

$39 + 5 =$

$79 + 8 =$

$17 + 6 =$

$54 + 7 =$

$48 + 3 =$

$85 + 6 =$

$85 + 8 =$

$27 + 7 =$

$43 + 9 =$

$68 + 7 =$

$18 + 6 =$

$37 + 5 =$

$74 + 7 =$

$59 + 2 =$

$66 + 6 =$

$87 + 6 =$

$29 + 3 =$

$46 + 9 =$

Pracovní list

A

jméno:.....

$$\begin{array}{r} 67 + 8 = \\ \\ \\ \\ \end{array}$$

$$\begin{array}{r} 59 + 6 = \\ \\ \\ \\ \end{array}$$

$$\begin{array}{r} 49 + 5 = \\ \\ \\ \\ \end{array}$$

$$\begin{array}{r} 38 + 4 = \\ \\ \\ \\ \end{array}$$

$$16 + 8 =$$

$$87 + 7 =$$

$$53 + 9 =$$

$$29 + 4 =$$

$$75 + 6 =$$

$$68 + 3 =$$

$$39 + 9 =$$

$$74 + 8 =$$

$$28 + 5 =$$

$$57 + 6 =$$

$$26 + 7 =$$

$$59 + 8 =$$

$$42 + 9 =$$

$$17 + 5 =$$

$$59 + 3 =$$

$$62 + 9 =$$

$$37 + 5 =$$

$$48 + 8 =$$

$$76 + 6 =$$

$$85 + 7 =$$

$$13 + 9 =$$

$$25 + 8 =$$

V sadu bylo 18 jabloní a 8 hrušní. Kolik stromů bylo v sadu celkem?

Jabloní

Hrušní

Znázorni:

Vypočítej:

Odpověď:

Pepík má v žákovské knížce 35 jedniček a 9 dvojek. Kolik známek má Pepík dohromady?

Jedniček

Dvojek

Znázorni

Vypočítej

Odpověď

Pracovní list

B

jméno:.....

$69 + 8 =$

/\

$56 + 7 =$

/\

$49 + 6 =$

/\

$38 + 7 =$

/\

$18 + 8 =$

$89 + 6 =$

$53 + 9 =$

$26 + 5 =$

$74 + 7 =$

$67 + 4 =$

$39 + 5 =$

$75 + 9 =$

$27 + 6 =$

$58 + 3 =$

$49 + 2 =$

$77 + 8 =$

$18 + 5 =$

$36 + 8 =$

$84 + 9 =$

$29 + 3 =$

$68 + 7 =$

$15 + 7 =$

$38 + 5 =$

$66 + 7 =$

$47 + 5 =$

$59 + 6 =$

$29 + 7 =$

$86 + 8 =$

Na záhonu bylo 17 červených tulipánů a 5 žlutých tulipánů. Kolik tulipánů bylo na záhonu celkem?

Červených tulipánů

Žlutých tulipánů

Znázorni:

Vypočítej:

Odpověď:

Milan má 34 hliněných kuliček a 8 skleněných kuliček. Kolik kuliček má Milan dohromady?

Hliněných kuliček

Skleněných kuliček

Znázorni

Vypočítej

Odpověď

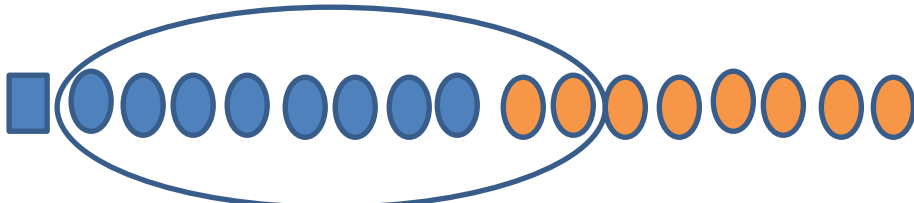
Řešení slovních úloh

A

V sadu bylo 18 jabloní a 8 hrušní. Kolik stromů bylo v sadu celkem?

Jabloní 18

Hrušní 8

Znázorni: 

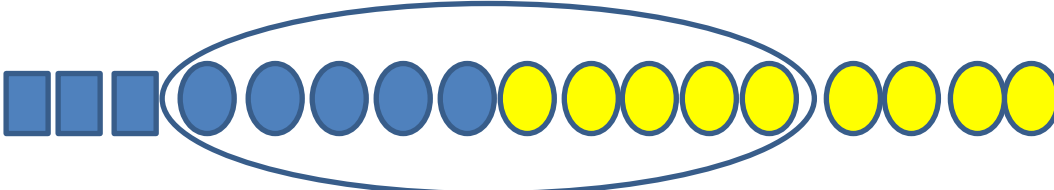
Vypočítej: $18 + 8 = 26$

Odpověď: V sadu bylo celkem 26 stromů.

Pepík má v žákovské knížce 35 jedniček a 9 dvojek. Kolik známek má Pepík dohromady?

Jedniček 35

Dvojek 9

Znázorni 

Vypočítej $35 + 9 = 44$

Odpověď: Pepík má dohromady 44 známek.

Řešení slovních úloh

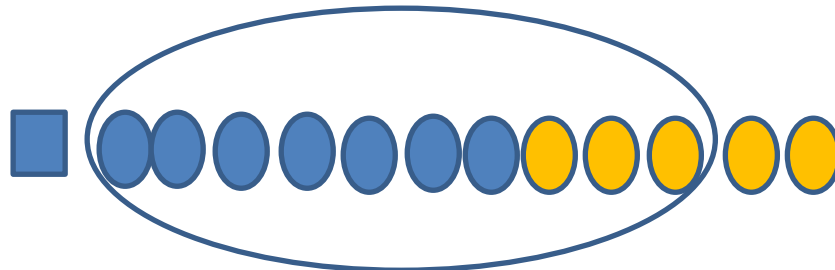
B

Na záhonu bylo 17 červených tulipánů a 5 žlutých tulipánů. Kolik tulipánů bylo na záhonu celkem?

Červených tulipánů 17

Žlutých tulipánů 5

Znázorni:



Vypočítej: $17 + 5 = 22$

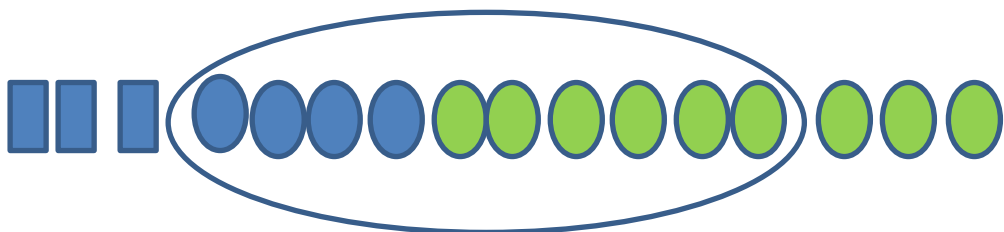
Odpověď: Na záhonu bylo 22 tulipánů.

Milan má 34 hliněných kuliček a 9 skleněných kuliček. Kolik kuliček má Milan dohromady?

Hliněných kuliček 34

Skleněných kuliček 9

Znázorni



Vypočítej $34 + 9 = 43$

Odpověď Milan má dohromady 43 kuliček.